

Hodnocení hodiny

Jméno autora práce:	Jaroslava Kmínková
Název práce:	Vlastivěda ve 4. ročníku – opakování dějepisné části
Zaměření, cíle práce:	Procvičení učiva
Věk žáků:	10 let
Použité programy (SW):	Ponškola - Vlastík
Využití v předmětu / činnosti:	Vlastivěda

Stručný postup a průběh praktických činností se žáky:

Práce ve skupinách na 6 stanovištích (po 4 žácích)

1. **stanoviště** test znalostí z naší historie na listu papíru (kontrola tabulkou)
(příloha 1)
2. **stanoviště** PC - Ponškola Vlastík – Hrajeme si - pexeso - soutěž dvojic
3. **stanoviště** obrázková skládanka - umělecké slohy (kontrola - papír s řešením)
(příloha 2)
práce navíc – příkládání obrázků skutečných staveb
4. **stanoviště** PC – Ponškola Vlastík – Otázky z českých dějin - 20 otázek
pravěk - Habsburkové - soutěž dvojic
5. **stanoviště** mapa - příkládání historicky významných míst na slepou mapu
(pomůcky - slepá mapa - velická , mapa ČR)
(příloha 3)
práce navíc – vyhledávání jiných historicky zajímavých míst ČR

6. **stanoviště** skládanka z kartiček (kontrola - papír s řešením)

- dějiny v čase - chronologie základník mezníků

práce navíc - umělecké slohy - chronologie ; typické znaky ;

přiřazení obrázků skutečných staveb

Čas na práci na jednom stanovišti - 8 minut

Vlastní hodnocení úspěšnosti a reakcí žáků:

Hodina proběhla bez problémů. Dětem se líbila. Děti spolu dobře spolupracovaly.

Vzhledem k tomu, že některé skupiny byly „silnější“ a jiné „slabší“, projevily se velké odlišnosti v délce plnění úkolů na jednotlivých stanovištích“.

To bylo kompenzováno nachystanými „úkoly navíc“.

příloha 1

TEST ZNALOSTÍ NAŠÍ HISTORIE

1. Z jakých materiálů byl postaven val kolem pravěkého hradiště?

- | | | |
|------------------|------------------|--------------------|
| A | B | C |
| ze skla a plastu | ze dřeva a hlíny | ze železa a bronzu |

2. Označují jména Konstantin a Cyril jednu osobu?

- | | |
|-----|----|
| A | B |
| Ano | Ne |

3. Jak se zhotovovaly první knihy?

- | | | |
|--------------------|-----------------|------------------|
| A | B | C |
| ručně se opisovaly | ručně se tiskly | vozily se z Číny |

4. Co je to robota?

- | | | |
|---------------------|---------------------------------|-------------------------------|
| A | B | C |
| tvrdá práce v dílně | bezplatná práce pro velkostatek | místoprost ve venkovské škole |

5. Jak se jmenoval první český panovník z rodu Jagellonců?

- | | | |
|--------|-----------|---------|
| A | B | C |
| Ludvík | Vladislav | Zikmund |

6. Proč si lidé začali stavět na návrších hradiště?

- | | | |
|-----------------------------|-----------------------------------|-----------------------------|
| A | B | C |
| dobytek měl blíže na pastvu | jejich domy více zahřívalo slunce | jako ochranu před nepřáteli |

7. Jaký materiál využili pravěcí lidé ke zhotovení prvních nástrojů?

- | | | |
|-------|--------|-------|
| A | B | C |
| kámen | železo | bronz |

8. Jak se jmenovaly tři dcery knížete Kroka?

- | | | |
|--------------------------|--------------------|-----------------------|
| A | B | C |
| Drahomíra, Ludmila, Kazi | Kazi, Teta, Libuše | Libuše, Anežka, Klára |

9. Kdo byli věrozvěstové?

- | | | |
|-------------------------|--------------------|--------------|
| A | B | C |
| stavitelé nových dvorců | šířitelé hlaholice | učitelé víry |

10. V roce 1526 vystřídal Jagellonce na českém trůnu významný evropský rod. Jak se jmenoval?

- | | | |
|-------------|--------------|-------------|
| A | B | C |
| Přemyslovci | Lucemburkové | Habsburkové |

11. Jak se kníže Václav snažil pro českou zemi zajistit pokoj a mír?

- | | | |
|----------------|-----------------|-------------------|
| A | B | C |
| silnou armádou | poplatky za mír | hrozbami sousedům |

12. Odkud pocházel podle pověsti Přemysl Oráč?

- | | | |
|-----------|---------|-------------|
| A | B | C |
| ze Stadic | z Prahy | z Vyšehradu |

13. Proč lidé nazývali Karla IV. Otcem vlasti?

- | | | |
|---------------------------------|----------------------|-------------------------|
| A | B | C |
| za výrobu korunovačních klenotů | za stavbu Karlštejna | za zásluhy o český stát |

14. Kdo první spojil slovanské kmeny?

- | | | |
|----------------------|------------|-----------|
| A | B | C |
| Konstantin a Metoděj | kupec Sámó | Svatopluk |

15. Jak se nazývá Kosmovo dílo o českých dějinách?

- | | | |
|----------------------------|---------------------|---------------|
| A | B | C |
| Wyprávění ze života starců | Staré pověsti české | Kronika česká |

16. Na kterém místě kázal Mistr Jan Hus v Praze?

- | | | |
|-------------------|-----------------------|---------------------------|
| A | B | C |
| v kapli Betlémské | v chrámu svatého Víta | v chrámu svatého Mikuláše |

17. Co si vzal podle pověsti na cestu Přemysl, když se vypravil za Libuší?

- | | | |
|-------------|--------------------------|-------------|
| A | B | C |
| pluh a otku | lýčené střevíce a brašnu | voly a koně |

18. Kde chtěl Jan Hus obhájit své učení před církevními hodnostáři?

- | | | |
|--------|-----------|------------|
| A | B | C |
| v Rýně | v Husinci | v Kostnici |

19. Kde se ukrývali pravěcí lidé před nepohodou?

- | | | |
|------------|----------------------|-------------------------|
| A | B | C |
| na hradech | ve výstavných domech | v jeskyních a chatrčích |




20. Ke které hoře došli podle pověsti naši předkové?

- | | | |
|------------|---------------|---------------|
| A | B | C |
| k hoře Říp | na Bílou horu | k hoře Blaník |




Tabulka řešení - zápis			
1			
2			
3			
4			
5			
6			
7			
8			
9			
10			
11			
12			
13			
14			
15			
16			
17			
18			
19			
20			
Počet správných odpovědí			

Tabulka řešení-kontrola			
1			
2			
3			
4			
5			
6			
7			
8			
9			
10			
11			
12			
13			
14			
15			
16			
17			
18			
19			
20			




SLOH ROMÁNSKÝ

		
hlavice sloupů	okna	rounda s věží

SLOH GOTICKÝ



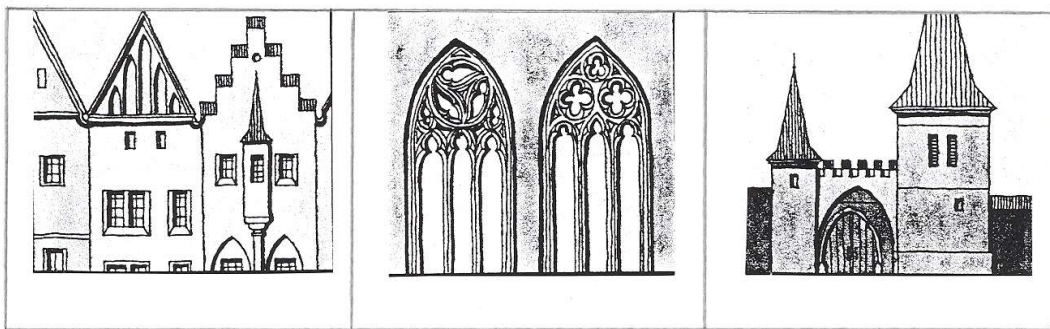

		
štíty budov	okna	městská brána

SLOH RENESANČNÍ

		
štíty budov	arkády	zdobená omítka

SLOH BAROKNÍ

		
kostel	okna	ornamenty



Příloha 3



Dvojstranné kartičky - barevně odlišené

Dolní Věstonice	Mikulčice	Praha
Říp	Kuks	Stará Boleslav
Trocnov	Poděbrady	Olomouc
Karlštejn	Kutná Hora	Tábor
Bílá hora nyní území Prahy	Domažlice	Sudoměř
Český Brod bitva u Lipan	Jáchymov	Častolovice

sídlo českých králů	archeologické naleziště z doby Velkomoravské říše	archeologické naleziště z doby kamenné
místo zavraždění sv. Václava	barokní zámek nedaleko Jaroměře	hora spojená s praotcem Čechem rotunda
zavražděn Václav III poslední z rodu Přemyslovců	Jiří z Poděbrad husitský král	Jan Žižka z Trocnova
město založené husity	těžba stříbra gotický chrám sv. Barbory	hrad založený Karlem IV
husitská vítězná bitva	husitská vítězná bitva	1620 - bitva česká šlechta proti Habsburkům
renesanční zámek	těžba stříbra	bitva, kterou husité prohráli 1434

Příloha 4

vznik Země → vznik života → člověk pravěk	doba kamenná bronzová železná	sběr plodů ,lov , mamut život v jeskyních Dolní Věstonice
Keltové Bójové 400 let př.n.l.	země Bójů → Bohemia	výroba bronzu, železa skla hrnčířský kruh , oppida výměnný obchod
příchod Slovanů 5. st.	pastevci a zemědělci pohané tkali látky	hovoří praslovanštinou kupec Sámo - sjednotil kmeny r.623
Velkomoravská říše 9. st.	první státní útvar šíření křesťanství	Konstantin a Metoděj hlaholice Bible ve slovanském jazyce
Přemyslovci 10.st. - 1306	knížata Bořivoj, sv. Václav, Boleslav I, Boleslav II , Oldřich, Břetislav	dřevěné domy první města,opevněné hrady sloh románský
	králové Přemysl Otakar I , Václav I, Přemysl Otakar II, Václav II, Václav III	Přemysl Otakar I 1212 – Zlatá bula sicilská dědičný královský titul
Lucemburkové r. 1310 - r. 1437	Jan Lucemburský Karel IV Václav IV Zikmund	Karlův most, chrám sv. Víta Nové Město pražské,Univerzita Karlštejn, Korunovační klenoty gotika
panovník bez královského původu od r. 1458	Jiří z Poděbrad husitský král	obnovuje pořádek v zemi po husitských válkách
Jagellonci od r. 1471	rod panovníků z Polska	gotika Vladislavský sál chrám sv. Víta chrám sv. Barbory
Habsburkové od r. 1526 - r. 1918	sjednocení zemí Koruny české s Uherskem a rakouskými zeměmi	Rudolf II - alchymistická Praha renesance vynález knihtisku

sloh románský	rotundy baziliky	okna s půlkruhovým obloukem
sloh gotický	okna s lomeným obloukem vysoká štíhlá okna	barevná skla
sloh renesanční	domy s ozdobnými štíty kamenné orámování	ozdoby omítek sgrafita malby
sloh barokní	množství ozdob užívání mramoru nástěnné malby fresky	korové sloupy sochy svatých (andělíčky; sochy vyjadřují náladu) Matyáš Braun